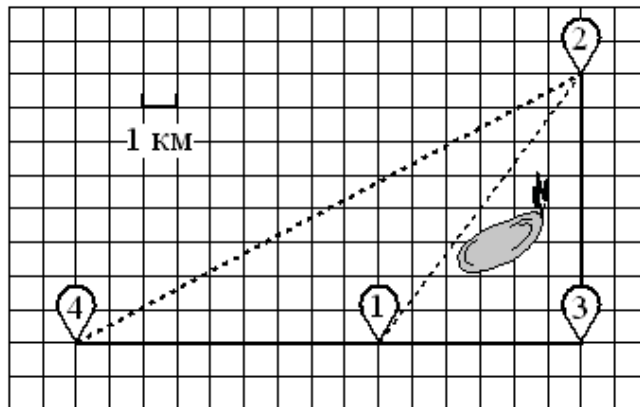


**1.1. Прочитайте внимательно текст и выполните задания 1–5.**

Никита и папа летом живут в деревне Лягушкино. В субботу они собираются съездить на велосипедах в село Вятское в спортивный магазин. Из деревни Лягушкино в село Вятское можно проехать по прямой лесной дорожке. Есть более длинный путь: по прямолинейному шоссе через деревню Куровка до деревни Марусино, где нужно повернуть под прямым углом налево на другое шоссе, ведущее в село Вятское. Есть и третий маршрут: в деревне Куровка можно свернуть на прямую тропинку в село Вятское, которая идёт мимо пруда. Лесная дорожка и тропинка образуют с шоссе прямоугольные треугольники.



По шоссе Никита с папой едут со скоростью 25 км/ч, а по лесной дорожке и тропинке — со скоростью 15 км/ч. На плане изображено взаимное расположение населённых пунктов, длина стороны каждой клетки равна 1 км.

1. Пользуясь описанием, определите, какими цифрами на плане обозначены населённые пункты.

Заполните таблицу, в бланк ответов перенесите последовательность трёх цифр без пробелов, запятых и других дополнительных символов.

Насел.пункты	д. Лягушкино	с. Вятское	д. Куровка
Цифры			

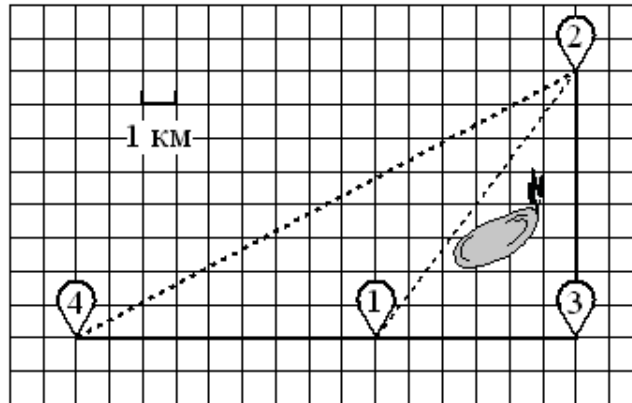
2. Сколько километров проедут Никита с папой от деревни Лягушкино до села Вятское, если они поедут по шоссе через деревню Марусино?
3. Найдите расстояние от деревни Лягушкино до села Вятское по прямой. Ответ дайте в километрах.
4. Сколько минут затратят на дорогу из деревни Лягушкино в село Вятское Никита с папой, если поедут через деревню Марусино?
5. В таблице указана стоимость (в рублях) некоторых продуктов в четырёх магазинах, расположенных в деревне Лягушкино, селе Вятское, деревне Куровка и деревне Марусино.

Наименование продукта	д. Лягушкино	с. Вятское	д. Куровка	д. Марусино
Молоко (1 л)	32	38	31	44
Хлеб (1 батон)	26	28	35	25
Сыр «Российский» (1 кг)	220	260	230	240
Говядина (1 кг)	360	350	330	400
Картофель (1 кг)	16	15	22	17

Никита с папой хотят купить 3 батона хлеба, 2 кг говядины и 3 кг картофеля. В каком магазине такой набор продуктов будет стоить дешевле всего? В ответ запишите стоимость данного набора в этом магазине.

1.2. Прочитайте внимательно текст и выполните задания 1–5.

Никита и папа летом живут в деревне Лягушкино. В субботу они собираются съездить на велосипедах в село Вятское в спортивный магазин. Из деревни Лягушкино в село Вятское можно проехать по прямой лесной дорожке. Есть более длинный путь: по прямолинейному шоссе через деревню Куровка до деревни Марусино, где нужно повернуть под прямым углом налево на другое шоссе, ведущее в село Вятское. Есть и третий маршрут: в деревне Куровка можно свернуть на прямую тропинку в село Вятское, которая идёт мимо пруда. Лесная дорожка и тропинка образуют с шоссе прямоугольные треугольники.



По шоссе Никита с папой едут со скоростью 25 км/ч, а по лесной дорожке и тропинке — со скоростью 15 км/ч. На плане изображено взаимное расположение населённых пунктов, длина стороны каждой клетки равна 1 км.

1. Пользуясь описанием, определите, какими цифрами на плане обозначены населённые пункты.

Заполните таблицу, в бланк ответов перенесите последовательность трёх цифр без пробелов, запятых и других дополнительных символов.

Насел.пункты	д. Марусино	с. Вятское	д. Куровка
Цифры			

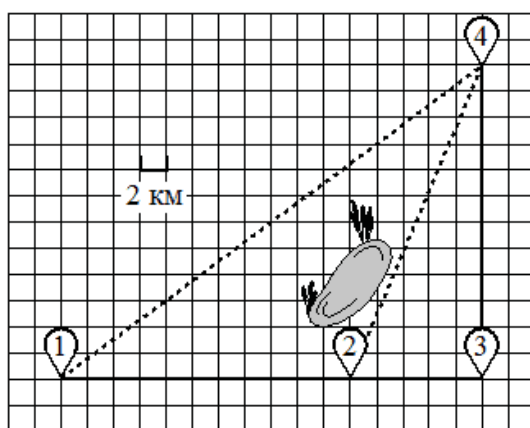
2. Сколько километров проедут Никита с папой от деревни Куровка до села Вятское, если они поедут по шоссе через деревню Марусино?
3. Найдите расстояние от деревни Куровка до села Вятское по прямой. Ответ дайте в километрах.
4. Сколько минут затратят на дорогу из деревни Лягушкино в село Вятское Никита с папой, если они поедут сначала по шоссе, а затем свернут в деревне Куровка на прямую тропинку, которая проходит мимо пруда?
5. В таблице указана стоимость (в рублях) некоторых продуктов в четырёх магазинах, расположенных в деревне Лягушкино, селе Вятское, деревне Куровка и деревне Марусино.

Наименование продукта	д. Лягушкино	с. Вятское	д. Куровка	д. Марусино
Молоко (1 л)	32	38	31	44
Хлеб (1 батон)	26	28	35	25
Сыр «Российский» (1 кг)	220	260	230	240
Говядина (1 кг)	360	350	330	400
Картофель (1 кг)	16	15	22	17

Никита с папой хотят купить 6 л молока, 4 батона хлеба и 3 кг говядины. В каком магазине такой набор продуктов будет стоить дешевле всего? В ответ запишите стоимость данного набора в этом магазине.

2.1. Прочитайте внимательно текст и выполните задания 1–5.

Полина летом отдыхает у бабушки в деревне Ясная. В четверг они собираются съездить на велосипедах в село Майское в магазин. Из деревни Ясная в село Майское можно проехать по прямой лесной дорожке. Есть более длинный путь: по прямолинейному шоссе через деревню Камышёвка до деревни Хомяково, где нужно повернуть под прямым углом налево на другое шоссе, ведущее в село Майское. Есть и третий маршрут: в деревне Камышёвка можно свернуть на прямую тропинку в село Майское, которая идёт мимо пруда. Лесная дорожка и тропинка образуют с шоссе прямоугольные треугольники.



По шоссе Полина с бабушкой едут со скоростью 20 км/ч, а по лесной дорожке и тропинке — со скоростью 15 км/ч. На плане изображено взаимное расположение населённых пунктов, длина стороны каждой клетки равна 2 км.

1. Пользуясь описанием, определите, какими цифрами на плане обозначены населённые пункты.

Заполните таблицу, в бланк ответов перенесите последовательность трёх цифр без пробелов, запятых и других дополнительных символов.

Насел.пункты	д. Камышёвка	д. Ясная	д. Хомяково
Цифры			

2. Сколько километров проедут Полина с бабушкой от деревни Ясная до села Майское, если они поедут по шоссе через деревню Хомяково?
3. Найдите расстояние от деревни Ясная до села Майское по прямой. Ответ дайте в километрах.
4. Сколько минут затратят на дорогу из деревни Ясная в село Майское Полина с бабушкой, если поедут через деревню Хомяково?
5. В таблице указана стоимость (в рублях) некоторых продуктов в четырёх магазинах, расположенных в деревне Ясная, селе Майское, деревне Камышёвка и деревне Хомяково.

Наименование продукта	д. Ясная	с. Майское	д. Камышёвка	д. Хомяково
Молоко (1 л)	42	38	41	33
Хлеб (1 батон)	25	21	29	30
Сыр «Российский» (1 кг)	310	320	290	280
Говядина (1 кг)	340	380	410	390
Картофель (1 кг)	15	20	17	18

Полина с бабушкой хотят купить 2 л молока, 3 кг говядины и 2 кг картофеля. В каком магазине такой набор продуктов будет стоить дешевле всего? В ответ запишите стоимость данного набора в этом магазине.



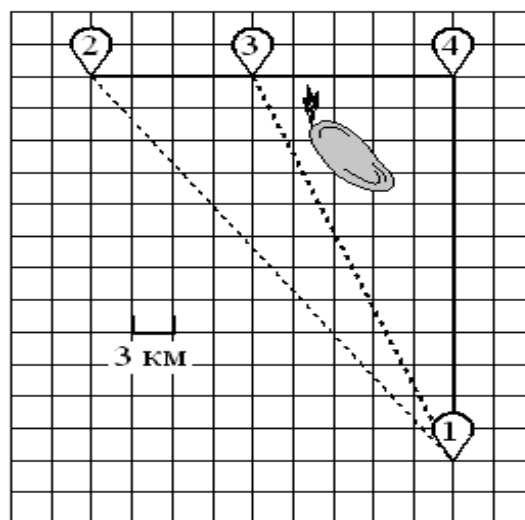
## 3.1. Прочитайте внимательно текст и выполните задания 1–5.

Дима летом отдыхает у бабушки в деревне Васильевка. Во вторник они собираются съездить на велосипедах в село Плодородное на ярмарку.

Из деревни Васильевка в село Плодородное можно проехать по прямой лесной дорожке. Есть более длинный путь: по прямолинейному шоссе через деревню Шарковка до деревни Рассвет, где нужно повернуть под прямым углом направо на другое шоссе, ведущее в село Плодородное. Есть и третий маршрут: в деревне Шарковка можно свернуть на прямую тропинку в село Плодородное, которая идёт мимо пруда.

Лесная дорожка и тропинка образуют с шоссе прямоугольные треугольники.

По шоссе Дима с бабушкой едут со скоростью 25 км/ч, а по лесной дорожке и тропинке — со скоростью 18 км/ч. На плане изображено взаимное расположение населённых пунктов, длина стороны каждой клетки равна 3 км.



1. Пользуясь описанием, определите, какими цифрами на плане обозначены населённые пункты.

Заполните таблицу, в бланк ответов перенесите последовательность трёх цифр без пробелов, запятых и других дополнительных символов.

Насел.пункты	д. Рассвет	с. Плодородное	д. Васильевка
Цифры			

2. Сколько километров проедут Дима с бабушкой от деревни Васильевка до села Плодородное, если они поедут по шоссе через деревню Рассвет?
3. Найдите расстояние от деревни Васильевка до села Плодородное по прямой. Ответ дайте в километрах.
4. Сколько минут затратят на дорогу из деревни Васильевка в село Плодородное Дима с бабушкой, если они поедут по прямой лесной дорожке?
5. В таблице указана стоимость (в рублях) некоторых продуктов в четырёх магазинах, расположенных в деревне Васильевка, селе Плодородное, деревне Шарковка и деревне Рассвет.

Наименование продукта	д. Васильевка	с. Плодородное	д. Шарковка	д. Рассвет
Молоко (1 л)	37	38	36	39
Хлеб (1 батон)	16	18	22	21
Сыр «Российский» (1 кг)	240	280	250	260
Говядина (1 кг)	420	430	415	410
Картофель (1 кг)	30	28	35	25

Дима с бабушкой хотят купить 2 л молока, 3 кг говядины и 2 кг картофеля. В каком магазине такой набор продуктов будет стоить дешевле всего? В ответ запишите стоимость данного набора в этом магазине.

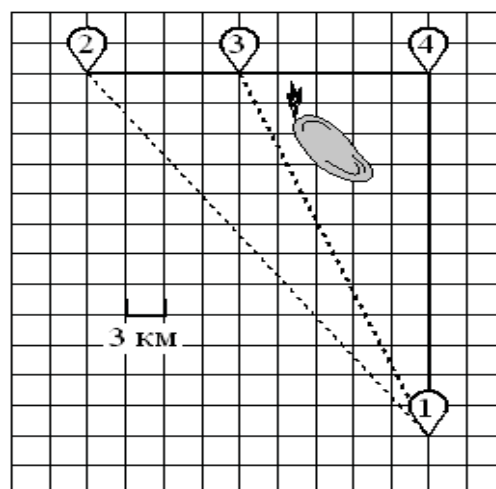
## 3.2. Прочитайте внимательно текст и выполните задания 1–5.

Дима летом отдыхает у бабушки в деревне Васильевка. Во вторник они собираются съездить на велосипедах в село Плодородное на ярмарку.

Из деревни Васильевка в село Плодородное можно проехать по прямой лесной дорожке. Есть более длинный путь: по прямолинейному шоссе через деревню Шарковка до деревни Рассвет, где нужно повернуть под прямым углом направо на другое шоссе, ведущее в село Плодородное. Есть и третий маршрут: в деревне Шарковка можно свернуть на прямую тропинку в село Плодородное, которая идёт мимо пруда.

Лесная дорожка и тропинка образуют с шоссе прямоугольные треугольники.

По шоссе Дима с бабушкой едут со скоростью 25 км/ч, а по лесной дорожке и тропинке — со скоростью 18 км/ч. На плане изображено взаимное расположение населённых пунктов, длина стороны каждой клетки равна 3 км.



1. Пользуясь описанием, определите, какими цифрами на плане обозначены населённые пункты.

Заполните таблицу, в бланк ответов перенесите последовательность трёх цифр без пробелов, запятых и других дополнительных символов.

Насел.пункты	д. Рассвет	с. Плодородное	д. Шарковка
Цифры			

2. Сколько километров проедут Дима с бабушкой от деревни Шарковка до села Плодородное, если они поедут по шоссе через деревню Рассвет?
3. Найдите расстояние от деревни Шарковка до села Плодородное по прямой. Ответ дайте в километрах.
4. Сколько минут затратят на дорогу из деревни Васильевка в село Плодородное Дима с бабушкой, если они поедут сначала по шоссе, а затем свернут в Шарковке на прямую тропинку, которая проходит мимо пруда?
5. В таблице указана стоимость (в рублях) некоторых продуктов в четырёх магазинах, расположенных в деревне Васильевка, селе Плодородное, деревне Шарковка и деревне Рассвет.

Наименование продукта	д. Васильевка	с. Плодородное	д. Шарковка	д. Рассвет
Молоко (1 л)	37	38	36	39
Хлеб (1 батон)	16	18	22	21
Сыр «Российский» (1 кг)	240	280	250	260
Говядина (1 кг)	420	430	415	410
Картофель (1 кг)	30	28	35	25

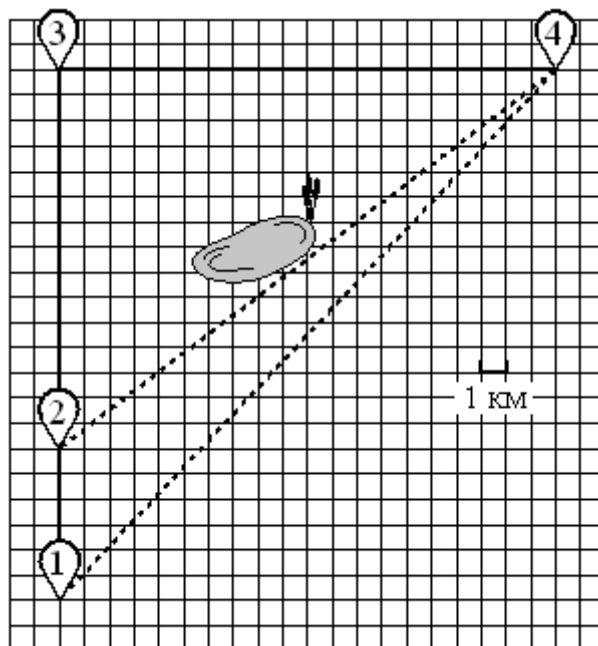
Дима с бабушкой хотят купить 4 кг сыра «Российский», 5 кг говядины, 6 кг картофеля. В каком магазине такой набор продуктов будет стоить дешевле всего? В ответ запишите стоимость данного набора в этом магазине.

#### 4.1. Прочитайте внимательно текст и выполните задания 1–5.

Саша летом отдыхает у бабушки в деревне Масловка. В субботу они собираются съездить на велосипедах в село Захарово в магазин. Из деревни Масловка в село Захарово можно проехать по прямой лесной дорожке. Есть более длинный путь: по прямолинейному шоссе через деревню Вёсенка до деревни Полянка, где нужно повернуть под прямым углом направо на другое шоссе, ведущее в село Захарово. Есть и третий маршрут: в деревне Вёсенка можно свернуть на прямую тропинку в село Захарово, которая идёт мимо пруда.

Лесная дорожка и тропинка образуют с шоссе прямоугольные треугольники.

По шоссе Саша с бабушкой едут со скоростью 20 км/ч, а по лесной дорожке и тропинке — со скоростью 15 км/ч. На плане изображено взаимное расположение населённых пунктов, сторона каждой клетки равна 1 км.



1. Пользуясь описанием, определите, какими цифрами на плане обозначены населённые пункты. Заполните таблицу, в бланк ответов перенесите последовательность трёх цифр без пробелов, запятых и других дополнительных символов.

Насел.пункты	д. Масловка	с. Захарово	д. Вёсенка
Цифры			

2. Сколько километров проедут Саша с бабушкой от деревни Масловка до села Захарово, если они поедут по шоссе через деревню Полянка?
3. Найдите расстояние от деревни Масловка до села Захарово по прямой. Ответ дайте в километрах.
4. Сколько минут затратят на дорогу из деревни Масловка в село Захарово Саша с бабушкой, если поедут через деревню Полянка?
5. В таблице указана стоимость (в рублях) некоторых продуктов в четырёх магазинах, расположенных в деревне Масловка, селе Захарово, деревне Вёсенка и деревне Полянка.

Наименование продукта	д. Масловка	с. Захарово	д. Вёсенка	д. Полянка
Молоко (1 л)	45	40	42	52
Хлеб (1 батон)	29	28	31	22
Сыр «Российский» (1 кг)	250	270	290	280
Говядина (1 кг)	350	380	360	390
Картофель (1 кг)	35	25	32	24

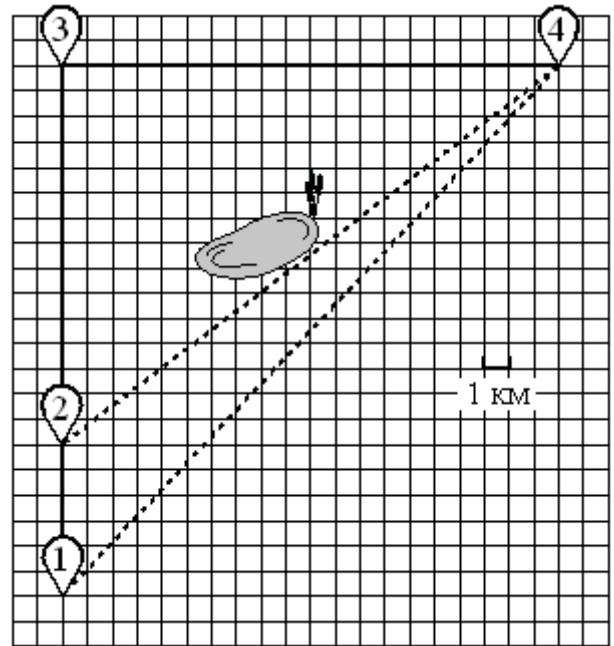
Саша с бабушкой хотят купить 2 л молока, 2 кг говядины и 4 кг картофеля. В каком магазине такой набор продуктов будет стоить дешевле всего? В ответ запишите стоимость данного набора в этом магазине.

4.2. Прочитайте внимательно текст и выполните задания 1–5.

Саша летом отдыхает у бабушки в деревне Масловка. В субботу они собираются съездить на велосипедах в село Захарово в магазин. Из деревни Масловка в село Захарово можно проехать по прямой лесной дорожке. Есть более длинный путь: по прямолинейному шоссе через деревню Вёсенка до деревни Полянка, где нужно повернуть под прямым углом направо на другое шоссе, ведущее в село Захарово. Есть и третий маршрут: в деревне Вёсенка можно свернуть на прямую тропинку в село Захарово, которая идёт мимо пруда.

Лесная дорожка и тропинка образуют с шоссе прямоугольные треугольники.

По шоссе Саша с бабушкой едут со скоростью 20 км/ч, а по лесной дорожке и тропинке — со скоростью 15 км/ч. На плане изображено взаимное расположение населённых пунктов, сторона каждой клетки равна 1 км.



1. Пользуясь описанием, определите, какими цифрами на плане обозначены населённые пункты.

Заполните таблицу, в бланк ответов перенесите последовательность трёх цифр без пробелов, запятых и других дополнительных символов.

Насел.пункты	д. Полянка	с. Захарово	д. Вёсенка
Цифры			

2. Сколько километров проедут Саша с бабушкой от деревни Вёсенка до села Захарово, если они поедут по шоссе через деревню Полянка?
3. Найдите расстояние от деревни Вёсенка до села Захарово по прямой. Ответ дайте в километрах.
4. Сколько минут затратят на дорогу из деревни Масловка в село Захарово Саша с бабушкой, если они поедут сначала по шоссе, а затем свернут в деревне Вёсенка на прямую тропинку, которая проходит мимо пруда?
5. В таблице указана стоимость (в рублях) некоторых продуктов в четырёх магазинах, расположенных в деревне Масловка, селе Захарово, деревне Вёсенка и деревне Полянка.

Наименование продукта	д. Масловка	с. Захарово	д. Вёсенка	д. Полянка
Молоко (1 л)	45	40	42	52
Хлеб (1 батон)	29	28	31	22
Сыр «Российский» (1 кг)	250	270	290	280
Говядина (1 кг)	350	380	360	390
Картофель (1 кг)	35	25	32	24

Саша с бабушкой хотят купить 3 батона хлеба, 2 кг сыра «Российский» и 5 кг картофеля. В каком магазине такой набор продуктов будет стоить дешевле всего? В ответ запишите стоимость данного набора в этом магазине.

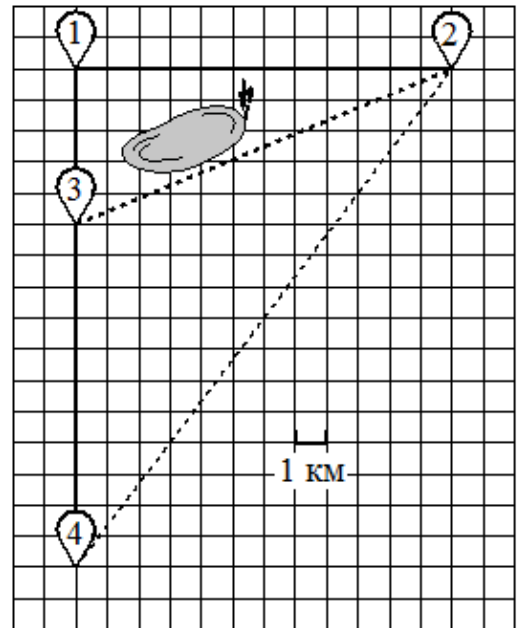
5.1. Прочитайте внимательно текст и выполните задания 1–5.

Саша летом отдыхает у бабушки в деревне Васильково. В субботу они собираются съездить на велосипедах в село Иваново в магазин.

Из деревни Васильково в село Иваново можно проехать по прямой лесной дорожке. Есть более длинный путь: по прямолинейному шоссе через деревню Камышино до деревни Журавушка, где нужно повернуть под прямым углом направо на другое шоссе, ведущее в село Иваново. Есть и третий маршрут: в деревне Камышино можно свернуть на прямую тропинку в село Иваново, которая идёт мимо пруда.

Лесная дорожка и тропинка образуют с шоссе прямоугольные треугольники.

По шоссе Саша с бабушкой едут со скоростью 20 км/ч, а по лесной дорожке и тропинке — со скоростью 15 км/ч. На плане изображено взаимное расположение населённых пунктов, длина стороны каждой клетки равна 1 км.



1. Пользуясь описанием, определите, какими цифрами на плане обозначены населённые пункты.

Заполните таблицу, в бланк ответов перенесите последовательность трёх цифр без пробелов, запятых и других дополнительных символов.

Насел.пункты	д. Васильково	с. Иваново	д. Камышино
Цифры			

2. Сколько километров проедут Саша с бабушкой от деревни Васильково до села Иваново, если они поедут по шоссе через деревню Журавушка?
3. Найдите расстояние от деревни Васильково до села Иваново по прямой. Ответ дайте в километрах.
4. Сколько минут затратят на дорогу из деревни Васильково в село Иваново Саша с бабушкой, если они поедут по прямой лесной дорожке?
5. В таблице указана стоимость (в рублях) некоторых продуктов в четырёх магазинах, расположенных в деревне Васильково, селе Иваново, деревне Камышино и деревне Журавушка.

Наименование продукта	д. Васильково	с. Иваново	д. Камышино	д. Журавушка
Молоко (1 л)	35	34	33	31
Хлеб (1 батон)	28	25	30	24
Сыр «Российский» (1 кг)	270	260	310	220
Говядина (1 кг)	390	420	400	380
Картофель (1 кг)	16	24	20	22

Саша с бабушкой хотят купить 2 л молока, 3 кг говядины и 2 кг картофеля. В каком магазине такой набор продуктов будет стоить дешевле всего? В ответ запишите стоимость данного набора в этом магазине.

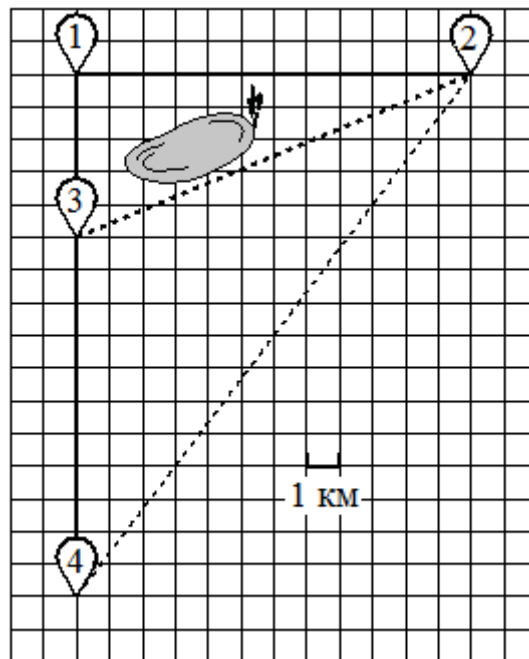
## 5.2. Прочитайте внимательно текст и выполните задания 1–5.

Саша летом отдыхает у бабушки в деревне Васильково. В субботу они собираются съездить на велосипедах в село Иваново в магазин.

Из деревни Васильково в село Иваново можно проехать по прямой лесной дорожке. Есть более длинный путь: по прямолинейному шоссе через деревню Камышино до деревни Журавушка, где нужно повернуть под прямым углом направо на другое шоссе, ведущее в село Иваново. Есть и третий маршрут: в деревне Камышино можно свернуть на прямую тропинку в село Иваново, которая идёт мимо пруда.

Лесная дорожка и тропинка образуют с шоссе прямоугольные треугольники.

По шоссе Саша с бабушкой едут со скоростью 20 км/ч, а по лесной дорожке и тропинке — со скоростью 15 км/ч. На плане изображено взаимное расположение населённых пунктов, длина стороны каждой клетки равна 1 км.



1. Пользуясь описанием, определите, какими цифрами на плане обозначены населённые пункты.

Заполните таблицу, в бланк ответов перенесите последовательность трёх цифр без пробелов, запятых и других дополнительных символов.

д. Журавушка	д. Камышино	с. Иваново	д. Журавушка
Цифры			

2. Сколько километров проедут Саша с бабушкой от деревни Камышино до села Иваново, если они поедут по шоссе через деревню Журавушка?
3. Найдите расстояние от деревни Камышино до села Иваново по прямой. Ответ дайте в километрах.
4. Сколько минут затратят на дорогу из деревни Васильково в село Иваново Саша с бабушкой, если они поедут сначала по шоссе, а затем свернут в Камышино на прямую тропинку, которая проходит мимо пруда?
5. В таблице указана стоимость (в рублях) некоторых продуктов в четырёх магазинах, расположенных в деревне Васильково, селе Иваново, деревне Камышино и деревне Журавушка.

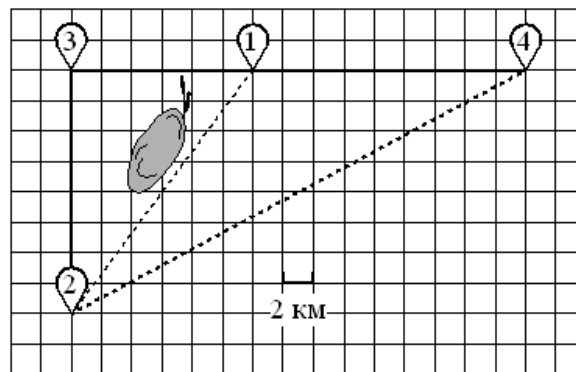
Наименование продукта	д. Васильково	с. Иваново	д. Камышино	д. Журавушка
Молоко (1 л)	35	34	33	31
Хлеб (1 батон)	28	25	30	24
Сыр «Российский» (1 кг)	270	260	310	220
Говядина (1 кг)	390	420	400	380
Картофель (1 кг)	16	24	20	22

Саша с бабушкой хотят купить 3 батона хлеба, 2 кг сыра «Российский» и 2 кг говядины. В каком магазине такой набор продуктов будет стоить дешевле всего? В ответ запишите стоимость данного набора в этом магазине.

**6.1. Прочитайте внимательно текст и выполните задания 1–5.**

Серёжа летом отдыхает с папой в деревне Пирожки. В среду они собираются съездить на машине в село Княжеское. Из деревни Пирожки в село Княжеское можно проехать по прямой грунтовой дороге. Есть более длинный путь: по прямолинейному шоссе через деревню Васильево до деревни Рябиновка, где нужно повернуть под прямым углом налево на другое шоссе, ведущее в село Княжеское. Есть и третий маршрут: в деревне Васильево можно свернуть на прямую грунтовую дорогу в село Княжеское, которая идёт мимо пруда.

Шоссе и грунтовые дороги образуют прямоугольные треугольники.



По шоссе Серёжа с папой едут со скоростью 60 км/ч, а по грунтовой дороге — со скоростью 40 км/ч. На плане изображено взаимное расположение населённых пунктов, длина стороны каждой клетки равна 2 км.

1. Пользуясь описанием, определите, какими цифрами на плане обозначены населённые пункты.

Заполните таблицу, в бланк ответов перенесите последовательность трёх цифр без пробелов, запятых и других дополнительных символов.

Насел.пункты	д. Пирожки	с. Княжеское	д. Рябиновка
Цифры			

2. Сколько километров проедут Серёжа с папой от деревни Пирожки до села Княжеское, если они поедут по шоссе через деревню Рябиновка?
3. Найдите расстояние от деревни Пирожки до села Княжеское по прямой. Ответ дайте в километрах.
4. Сколько минут затратят на дорогу из деревни Пирожки в село Княжеское Серёжа с папой, если они поедут по прямой грунтовой дороге?
5. В таблице указана стоимость (в рублях) некоторых продуктов в четырёх магазинах, расположенных в деревне Пирожки, селе Княжеское, деревне Васильево и деревне Рябиновка.

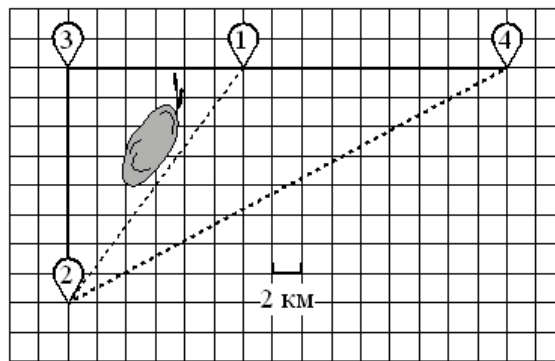
Наименование продукта	д. Пирожки	с. Княжеское	д. Васильево	д. Рябиновка
Молоко (1 л)	48	45	50	52
Хлеб (1 батон)	34	32	33	28
Сыр «Российский» (1 кг)	240	280	270	260
Говядина (1 кг)	370	400	380	420
Картофель (1 кг)	22	16	28	30

Серёжа с папой хотят купить 2 л молока, 3 батона хлеба и 1 кг сыра «Российский». В каком магазине такой набор продуктов будет стоить дешевле всего? В ответ запишите стоимость данного набора в этом магазине.

6.2. Прочитайте внимательно текст и выполните задания 1–5.

Серёжа летом отдыхает с папой в деревне Пирожки. В среду они собираются съездить на машине в село Княжеское. Из деревни Пирожки в село Княжеское можно проехать по прямой грунтовой дороге. Есть более длинный путь: по прямолинейному шоссе через деревню Васильево до деревни Рябиновка, где нужно повернуть под прямым углом налево на другое шоссе, ведущее в село Княжеское. Есть и третий маршрут: в деревне Васильево можно свернуть на прямую грунтовую дорогу в село Княжеское, которая идёт мимо пруда.

Шоссе и грунтовые дороги образуют прямоугольные треугольники.



По шоссе Серёжа с папой едут со скоростью 60 км/ч, а по грунтовой дороге — со скоростью 40 км/ч. На плане изображено взаимное расположение населённых пунктов, длина стороны каждой клетки равна 2 км.

- Пользуясь описанием, определите, какими цифрами на плане обозначены населённые пункты.  
Заполните таблицу, в бланк ответов перенесите последовательность трёх цифр без пробелов, запятых и других дополнительных символов.

Насел.пункты	д. Васильево	с. Княжеское	д. Рябиновка
Цифры			

- Сколько километров проедут Серёжа с папой от деревни Васильево до села Княжеское, если они поедут по шоссе через деревню Рябиновка?
- Найдите расстояние от деревни Васильево до села Княжеское по прямой. Ответ дайте в километрах.
- Сколько минут затратят на дорогу из деревни Пирожки в село Княжеское Серёжа с папой, если они поедут сначала по шоссе, а затем свернут в деревне Васильево на прямую грунтовую дорогу, которая проходит мимо пруда?
- В таблице указана стоимость (в рублях) некоторых продуктов в четырёх магазинах, расположенных в деревне Пирожки, селе Княжеское, деревне Васильево и деревне Рябиновка.

Наименование продукта	д. Пирожки	с. Княжеское	д. Васильево	д. Рябиновка
Молоко (1 л)	48	45	50	52
Хлеб (1 батон)	34	32	33	28
Сыр «Российский» (1 кг)	240	280	270	260
Говядина (1 кг)	370	400	380	420
Картофель (1 кг)	22	16	28	30

Серёжа с папой хотят купить 3 л молока, 1 кг говядины и 4 кг картофеля. В каком магазине такой набор продуктов будет стоить дешевле всего? В ответ запишите стоимость данного набора в этом магазине.

**Ответы**

1.1.		1.2.		2.1.		2.2.	
1.	421	1.	321	1.	213	1.	431
2.	23	2.	14	2.	56	2.	34
3.	17	3.	10	3.	40	3.	26
4.	55,2	4.	61,6	4.	168	4.	170
5.	829	5.	1316	5.	1134	5.	433
3.1.		3.2.		4.1.		4.2.	
1.	412	1.	413	1.	142	1.	342
2.	63	2.	51	2.	41	2.	35
3.	45	3.	39	3.	29	3.	25
4.	150	4.	158,8	4.	123	4.	118
5.	1358	5.	3240	5.	930	5.	746
5.1.		5.2.		6.1.		6.2.	
1.	423	1.	321	1.	423	1.	123
2.	28	2.	17	2.	46	2.	28
3.	20	3.	13	3.	34	3.	20
4.	80	4.	85	4.	51	4.	48
5.	1246	5.	1272	5.	438	5.	599