



Степень и логарифм

Свойства степени при $a > 0, b > 0$

$$a^{-n} = \frac{1}{a^n}$$

$$a^n \cdot a^m = a^{n+m}$$

$$\frac{a^n}{a^m} = a^{n-m}$$

$$(a^n)^m = a^{nm}$$

$$(ab)^n = a^n \cdot b^n$$

$$\left(\frac{a}{b}\right)^n = \frac{a^n}{b^n}$$

Свойства логарифма при $a > 0, a \neq 1, b > 0, x > 0, y > 0$

$$a^{\log_a b} = b$$

$$\log_a a = 1$$

$$\log_a 1 = 0$$

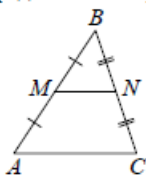
$$\log_a (xy) = \log_a x + \log_a y$$

$$\log_a \left(\frac{x}{y}\right) = \log_a x - \log_a y$$

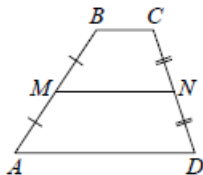
$$\log_a b^k = k \log_a b$$

Геометрия

Средняя линия треугольника и трапеции

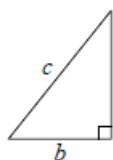


MN — ср. лин.
 $MN \parallel AC$
 $MN = \frac{AC}{2}$



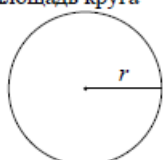
$BC \parallel AD$
 MN — ср. лин.
 $MN \parallel AD$
 $MN = \frac{BC + AD}{2}$

Теорема Пифагора



$$a^2 + b^2 = c^2$$

Длина окружности
Площадь круга



$$C = 2\pi r$$

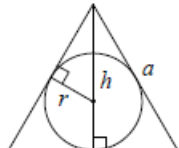
$$S = \pi r^2$$

Правильный треугольник



$$R = \frac{a\sqrt{3}}{3}$$

$$S = \frac{a^2\sqrt{3}}{4}$$

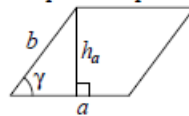


$$r = \frac{a\sqrt{3}}{6}$$

$$h = \frac{a\sqrt{3}}{2}$$

Площади фигур

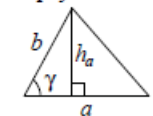
Параллелограмм



$$S = ah_a$$

$$S = ab \sin \gamma$$

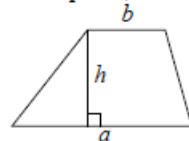
Треугольник



$$S = \frac{1}{2} ah_a$$

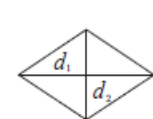
$$S = \frac{1}{2} ab \sin \gamma$$

Трапеция



$$S = \frac{a+b}{2} \cdot h$$

Ромб

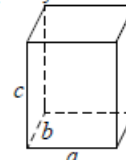


d_1, d_2 — диагонали

$$S = \frac{1}{2} d_1 d_2$$

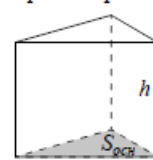
Площади поверхностей и объёмы тел

Прямоугольный параллелепипед



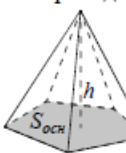
$$V = abc$$

Прямая призма



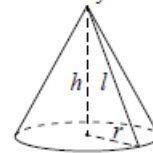
$$V = S_{осн} h$$

Пирамида



$$V = \frac{1}{3} S_{осн} h$$

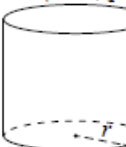
Конус



$$V = \frac{1}{3} \pi r^2 h$$

$$S_{бок} = \pi r l$$

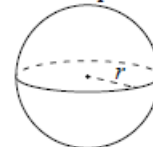
Цилиндр



$$V = \pi r^2 h$$

$$S_{бок} = 2\pi r h$$

Шар

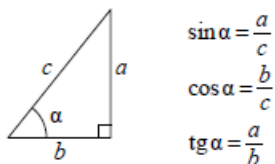


$$V = \frac{4}{3} \pi r^3$$

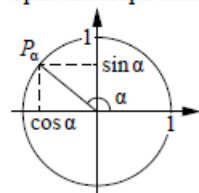
$$S = 4\pi r^2$$

Тригонометрические функции

Прямоугольный треугольник



Тригонометрическая окружность



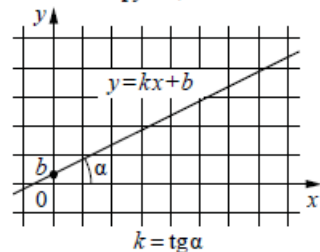
Основное тригонометрическое тождество: $\sin^2 \alpha + \cos^2 \alpha = 1$

Некоторые значения тригонометрических функций

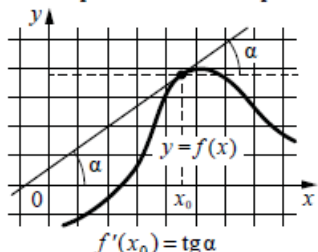
α	радианы	0	$\frac{\pi}{6}$	$\frac{\pi}{4}$	$\frac{\pi}{3}$	$\frac{\pi}{2}$	π	$\frac{3\pi}{2}$	2π
	градусы	0°	30°	45°	60°	90°	180°	270°	360°
$\sin \alpha$		0	$\frac{1}{2}$	$\frac{\sqrt{2}}{2}$	$\frac{\sqrt{3}}{2}$	1	0	-1	0
$\cos \alpha$		1	$\frac{\sqrt{3}}{2}$	$\frac{\sqrt{2}}{2}$	$\frac{1}{2}$	0	-1	0	1
$\operatorname{tg} \alpha$		0	$\frac{\sqrt{3}}{3}$	1	$\sqrt{3}$	—	0	—	0

Функции

Линейная функция



Геометрический смысл производной



Ответом к каждому заданию является конечная десятичная дробь, или целое число, или последовательность цифр. Ответ сначала запишите в поле ответа в тексте работы, а затем перенесите в БЛАНК ОТВЕТОВ № 1 справа от номера соответствующего задания. Каждую цифру, знак «минус» и запятую пишите в отдельной клеточке в соответствии с приведёнными в бланке образцами. Единицы измерений писать не нужно.

1 Принтер печатает одну страницу за 14 секунд. Сколько страниц можно напечатать на этом принтере за 7 минут?
 Ответ: _____.

2 Установите соответствие между величинами и их возможными значениями: к каждому элементу первого столбца подберите соответствующий элемент из второго столбца.

ВЕЛИЧИНЫ

- А) масса кухонного холодильника
- Б) масса трамвая
- В) масса новорождённого ребёнка
- Г) масса карандаша

ЗНАЧЕНИЯ

- 1) 3500 г
- 2) 15 г
- 3) 17 т
- 4) 38 кг

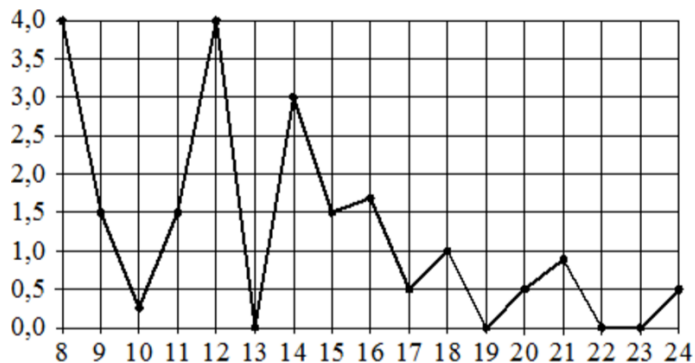
В таблице под каждой буквой, соответствующей величине, укажите номер её возможного значения.

Ответ:

А	Б	В	Г



- 3** На рисунке жирными точками показано суточное количество осадков, выпадавших в Томске с 8 по 24 января 2005 года. По горизонтали указываются числа месяца, по вертикали – количество осадков, выпавших в соответствующий день, в миллиметрах. Для наглядности жирные точки на рисунке соединены линиями. Определите по рисунку, какого числа за данный период впервые выпало ровно 1,5 миллиметра осадков.



Ответ: _____.

- 4** Среднее квадратичное трёх чисел a , b и c вычисляется по формуле

$$q = \sqrt{\frac{a^2 + b^2 + c^2}{3}}.$$

Найдите среднее квадратичное чисел $\sqrt{2}$, 3 и 17.

Ответ: _____.

- 5** В сборнике билетов по математике всего 20 билетов, в 11 из них встречается вопрос по теме «Логарифмы». Найдите вероятность того, что в случайно выбранном на экзамене билете школьнику достанется вопрос по теме «Логарифмы».

Ответ: _____.

- 6** Телефонная компания предоставляет на выбор три тарифных плана.

Тарифный план	Абонентская плата (в месяц)	Плата за 1 минуту разговора
«Повременный»	Нет	2 руб.
«Комбинированный»	290 руб. за 350 мин.	1,5 руб. (сверх 350 мин. в месяц)
«Безлимитный»	1150 руб.	Нет

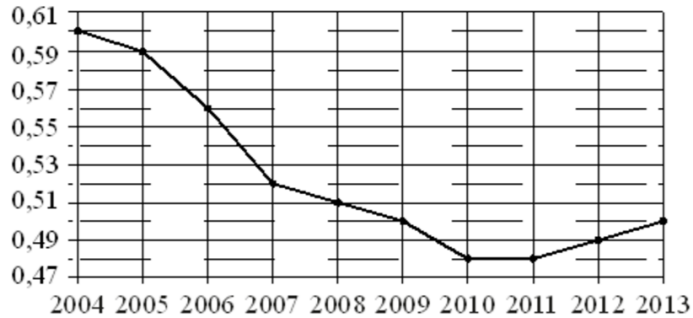
Абонент предполагает, что общая длительность разговоров составит 600 минут в месяц, и исходя из этого выбирает наиболее дешёвый тарифный план. Сколько рублей должен будет заплатить абонент за месяц, если общая длительность разговоров действительно будет равна 600 минутам?

Ответ: _____.





7 На рисунке точками показан прирост населения Китая в период с 2004 по 2013 годы. По горизонтали указывается год, по вертикали – прирост населения в процентах (увеличение численности населения относительно прошлого года). Для наглядности точки соединены линией.



Пользуясь рисунком, поставьте в соответствие каждому из указанных периодов времени характеристику прироста населения Китая.

ПЕРИОДЫ ВРЕМЕНИ

- А) 2005-2007 гг.
- Б) 2007-2009 гг.
- В) 2009-2011 гг.
- Г) 2011-2013 гг.

ХАРАКТЕРИСТИКИ

- 1) падение прироста остановилось
- 2) наибольшее падение прироста населения
- 3) прирост населения находился в пределах от 0,5% до 0,52%
- 4) прирост населения увеличивался

В таблице под каждой буквой укажите соответствующий номер.

Ответ:

А	Б	В	Г

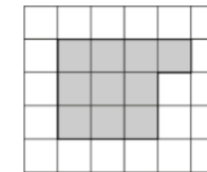
8 В классе учится 20 человек, из них 13 человек посещают кружок по истории, а 10 – кружок по математике. Выберите утверждения, которые верны при указанных условиях.

- 1) Каждый ученик этого класса посещает оба кружка.
- 2) Найдутся хотя бы двое из этого класса, кто посещает оба кружка.
- 3) Если ученик из этого класса ходит на кружок по истории, то он обязательно ходит на кружок по математике.
- 4) Не найдётся 11 человек из этого класса, которые посещают оба кружка.

В ответе запишите номера выбранных утверждений без пробелов, запятых и других дополнительных символов.

Ответ: _____.

9 План местности разбит на клетки. Каждая клетка обозначает квадрат 1 м × 1 м. Найдите площадь участка, выделенного на плане. Ответ дайте в квадратных метрах.



Ответ: _____.

10 На рисунке показано, как выглядит колесо с 7 спицами. Сколько будет спиц в колесе, если угол между соседними спицами в нём будет равен 30°?

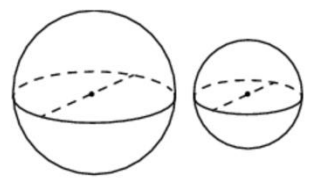


Ответ: _____.



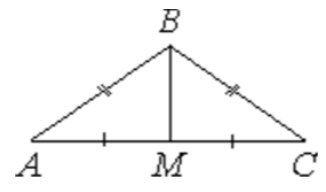


11 Однородный шар диаметром 3 см весит 162 грамма. Сколько граммов весит шар диаметром 2 см, изготовленный из того же материала?



Ответ: _____.

12 В треугольнике ABC известно, что $AB = BC = 15$, $AC = 24$. Найдите длину медианы BM .



Ответ: _____.

13 Объём конуса равен 9π , а радиус его основания равен 3. Найдите высоту конуса.



Ответ: _____.

14 Найдите значение выражения $1,2 : 0,6 \cdot 1,5$.

Ответ: _____.

15 Пачка сливочного масла стоит 50 рублей. Пенсионерам магазин делает скидку 10%. Сколько рублей стоит пачка масла для пенсионера?

Ответ: _____.

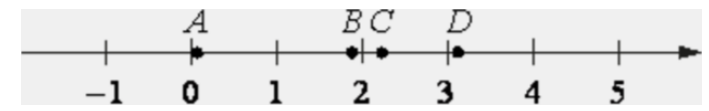
16 Найдите значение выражения $\log_2 224 - \log_2 7$.

Ответ: _____.

17 Найдите корень уравнения $\sqrt{13 - x} = 3$.

Ответ: _____.

18 На прямой отмечены точки A, B, C и D .



Каждой точке соответствует одно из чисел из правого столбца. Установите соответствие между указанными точками и числами.

<u>ТОЧКИ</u>	<u>ЧИСЛА</u>
A	1) $\log_5 20$
B	2) $\frac{29}{13}$
C	3) $\sqrt{10}$
D	4) $\left(\frac{37}{3}\right)^{-1}$

Впишите в приведённую в ответе таблицу под каждой буквой соответствующую цифру.

Ответ:

A	B	C	D

- 19** Найдите трёхзначное натуральное число, большее 600, которое при делении на 3, на 4 и на 5 даёт в остатке 1 и цифры которого расположены в порядке убывания слева направо. В ответе укажите какое-нибудь одно такое число.

Ответ: _____.

- 20** Изюм получается в процессе сушки винограда. Сколько килограммов винограда потребуется для получения 42 килограммов изюма, если виноград содержит 82% воды, а изюм содержит 19% воды?

Ответ: _____.

- 21** В корзине лежит 40 грибов: рыжики и грузди. Известно, что среди любых 17 грибов имеется хотя бы один рыжик, а среди любых 25 грибов хотя бы один груздь. Сколько рыжиков в корзине?

Ответ: _____.

*Не забудьте перенести все ответы в бланк ответов № 1 в соответствии с инструкцией по выполнению работы.
Проверьте, чтобы каждый ответ был записан в строке с номером соответствующего задания.*








































СОСТАВИТЕЛЬ ВАРИАНТА:

ФИО:	Евгений Пифагор
Предмет:	Математика
Стаж:	14 лет готовлю к ЕГЭ и ОГЭ
Регалии:	Набрал 100 баллов на ЕГЭ по математике (профиль) Результаты моих учеников Высшее образование – ТГУ (Тольятти), 2009-2014 Победитель трёх олимпиад по высшей математике
ВК:	https://vk.com/shkolapifagora
Ютуб:	https://www.youtube.com/c/pifagor1



**Система оценивания экзаменационной работы по математике
(базовый уровень)**

Правильное решение каждого из заданий 1–21 оценивается 1 баллом. Задание считается выполненным верно, если ответ записан в той форме, которая указана в инструкции по выполнению задания, и полностью совпадает с эталоном ответа.

Номер задания	Правильный ответ	Текстовое решение	Видео решение
1	30		
2	4312		
3	4123		
4	10		
5	0,55		
6	665		
7	2314		
8	24		
9	10		
10	12		
11	48		
12	9		
13	3		
14	3		
15	45		
16	5		
17	4		
18	4123		
19	721 или 841 или 961		
20	189		
21	24	